




Note c, d, e und g

Wiederhole das Notenmuster und schreibe die Namen darunter.



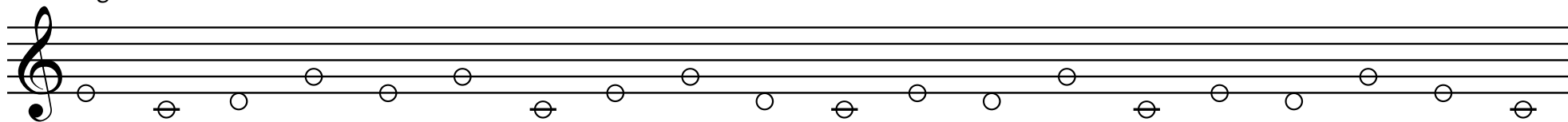
Schreibe abwechselnd Viertel, Halbe und Ganze Noten. 



Wie heißen die Noten? Schreibe die Namen darunter und umkreise alle Viertelnoten.



Ergänze abwechselnd zur Viertel und Halben Note. 



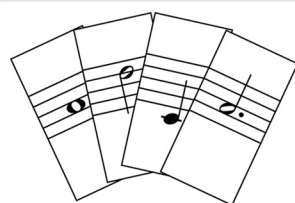

Lückentext: Fülle mit den passenden Viertelnoten aus.



Vervollständige mit Noten und Notennamen.

_____ c f _____ d g _____ e c _____ f d _____ g c

Welche zwei aufeinander folgenden Noten füllen die leeren Stellen aus?




Die Karten gemischt auslegen.


Aufgabe: Suche die genannten Töne als Ganze Noten
(Variante: Viertel, etc.) aus dem Kartenvorrat und lege sie in
der vorgegebenen Reihenfolge aus : c f g d // e g c f //
d g c e // g d c e // f g e c // e c d g // g f c d

Note g, a, h, c" und d"

Wiederhole das Notenmuster und schreibe die Namen darunter.

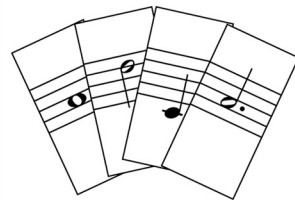



Schreibe abwechselnd punktierte Halbe und Viertel. 



g h d" a c" a g d" c" a h g d" a c" h a g c" d"

Schreibe den nächsthöheren Ton.



Die Karten gemischt auslegen.

Aufgabe: Suche die genannten Töne als Viertelnoten
(Variante: Halbe, etc.) aus dem Kartenvorrat und lege sie in
der vorgegebenen Reihenfolge aus: g a h c" // a h c" d" //
c" h a g // d" c" h a // h c" d" g // d" c" h g //